



## VERIFICA DI MATEMATICA CLASSE PRIMA


- LA LINEA DEI NUMERI
- NUMERI CARDINALI E QUANTITA'
- CONFRONTO DI NUMERI E QUANTITA' (MAGGIORE, MINORE E UGUALE)

★ COMPLETA LA LINEA DEI NUMERI.



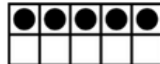
1 2 \_\_\_ 4 \_\_\_ 6 7 \_\_\_ \_\_\_



★ SCRIVI IN CIFRE I SEGUENTI NUMERI.

TRE	
SEI	
NOVE	


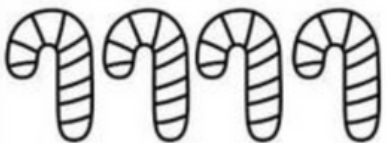

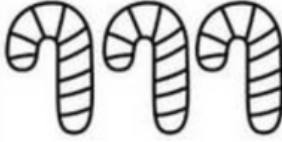





★ COMPLETA INSERENDO CORRETTAMENTE IL SIMBOLO < > =


 \_\_\_  \_\_\_ 


 \_\_\_  \_\_\_ 

★ CONTA E FAI UNA CROCETTA SUL NUMERO CORRETTO.

	8		7
	9		6
	10		8
	6		



MAESTRA ANNALISA