

E-BOOK

ESERCITIAMOCI INSIEME CON I

NUMERI

DA 1 A 50

$$1 + 2 = 3$$



PEDAGOGIA APPRENDIMENTO



DOTTORESSA MARGAUX RAVENNA

COSA TROVERAI?

1. Esercizi sui numeri fino al 10 (pregrafismo, inserimento, scrittura di parole guidate e in autonomia)	1
2. I raggruppamenti.....	11
3. Operazioni entro il 10	14
4. L'abaco.....	21
5. Operazioni entro il 20 con la linea dei numeri.....	23
6. Precedente e successivo.....	28
7. Operazioni in colonna.....	32
8. Calcoli a mente.....	36
9. I numeri fino al 50.....	39
10. Maggiore, minore e uguale.....	43
11. Numeri precedenti e successivi.....	44
12. Piccoli problemi da risolvere.....	47




1) ESEGUI LE SEGUENTI OPERAZIONI

 +  =

 +  =

 +  =


 +  +  =

 +  +  =


PROBLEMINI

RISOLVI I SEGUENTI PROBLEMI


LA MAMMA HA COMPRATO 4 ALBICOCCHIE AL SUPERMERCATO E 3 MELE. QUANTI FRUTTI HA IN TUTTO ?

<p>DISEGNO</p> 	<p>OPERAZIONE</p> <p>.....</p> <p>.....</p>
---	---

TOMMASO HA NELL'ASTUCCIO 5 EVIDENZIAITORI, NE REGALA 2 AL SUO COMPAGNO DI BANCO. QUANTI EVIDENZIAITORI GLI RIMANGONO ?

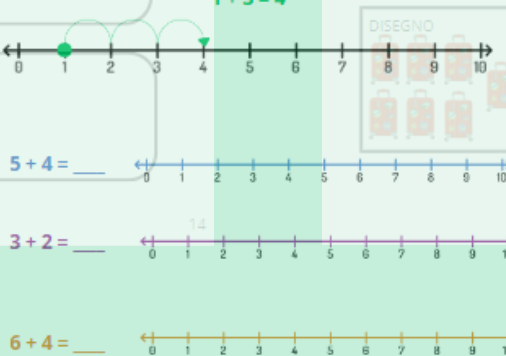
<p>DISEGNO</p> 	<p>OPERAZIONE</p> <p>.....</p> <p>.....</p>
---	---

A CASA CI SONO 7 VALIGIE. IL PAPA' NE HA CARICATE 4 IN MACCHINE. QUANTE NE RIMANGONO A CASA ?

<p>DISEGNO</p> 	<p>OPERAZIONE</p> <p>.....</p> <p>.....</p>
---	---

OPERAZIONI CON LA LINEA DEI NUMERI

$1 + 3 = 4$



$5 + 4 = \underline{\quad}$

$3 + 2 = \underline{\quad}$

$6 + 4 = \underline{\quad}$

ESEGUI LE OPERAZIONI A MENTE

45 -7 $+5$ $0 + 8 =$

40 -7 -10

10 $+10$ -20 $+30$

50 $+20$ $+24$

32 $+14$ -40 $+24$

0 -30

OPERAZIONI IN COLONNA

$30 - 12 - 5 = \dots$	$29 - 10 - 9 = \dots$
da u	da u
23	
$18 - 0 - 12 = \dots$	$27 - 12 - 8 = \dots$
da u	da u
$30 - 11 - 5 = \dots$	$24 - 2 - 10 = \dots$
da u	da u