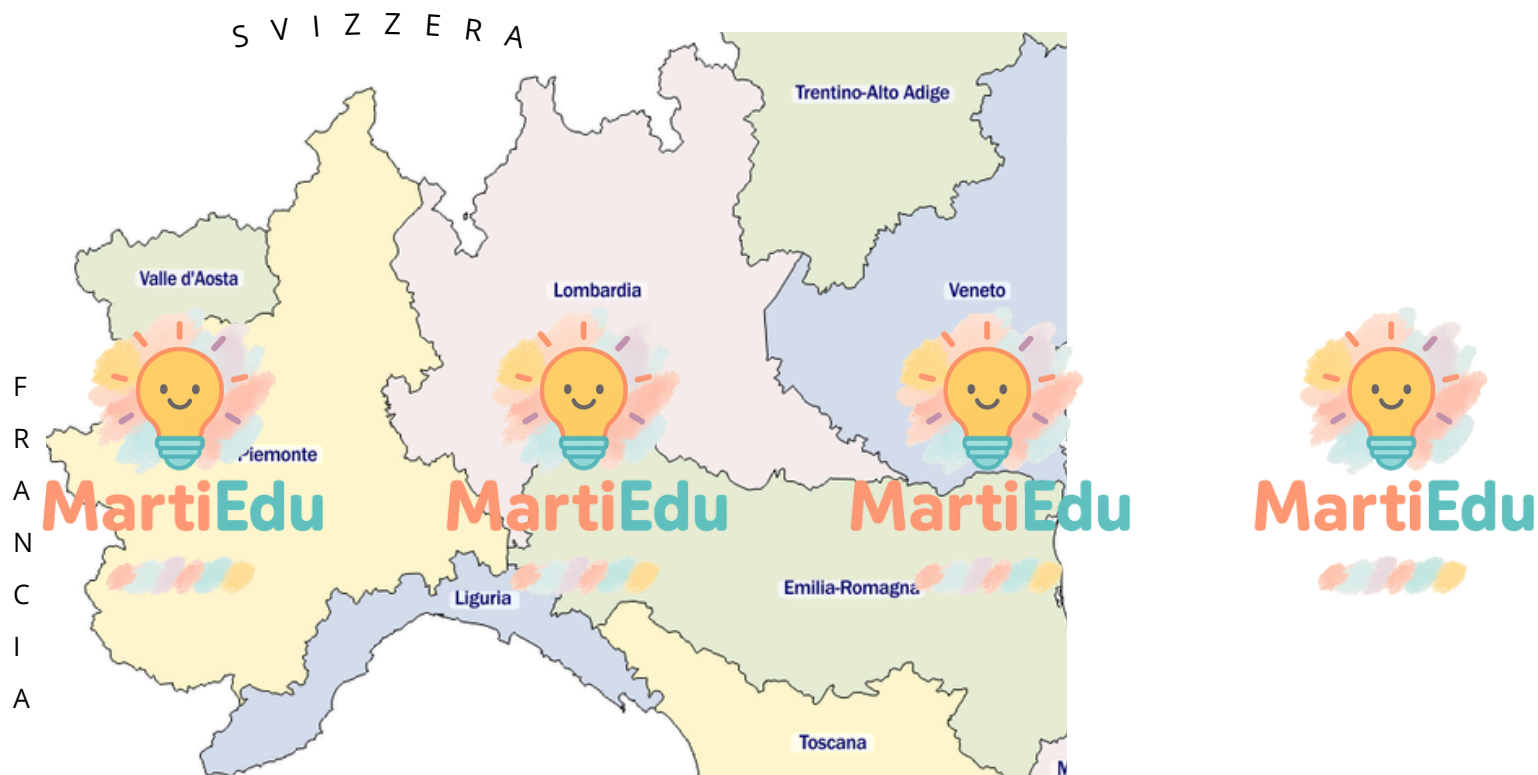










Verifica di GEOGRAFIA: Lombardia/Piemonte

NOME..... COGNOME..... DATA.....

1) Osserva la cartina e scrivi i confini di ogni regione.



LOMBARDIA	PIEMONTE
 	 
 	 

2) Scrivi sui puntini la regione o le regioni in cui si trova l'elemento indicato:

1. Lago di Como:

2. Milano:

3. Mantova:

4. Morto Rosa:

5. Alessandria:

6. Pianura Padana:

7. Bergamo:

3) Leggi e completa.

- Il capoluogo della Lombardia:
- Il ...go del Piemonte:
- Significato del nome Lombardia:
- Significato del nome Piemonte:
- Il territorio della Lombardia è maggiormente:
- Il territorio del Piemonte è maggiormente:

4) Scrivi a quale regione si riferisce ogni affermazione.

E' la ... in cui nasce il ...			
E' prevalentemente pianeggiante.			
Si trova il Parco Nazionale del Gran Paradiso.			
Si ...onti che superano i 3000 metri.			
E' la seconda regione per estensione.			
Ospita uno dei musei più importanti al mondo.			
Possiede tre aeroporti.			
Venezia, Mantova, ... si trovano in.			

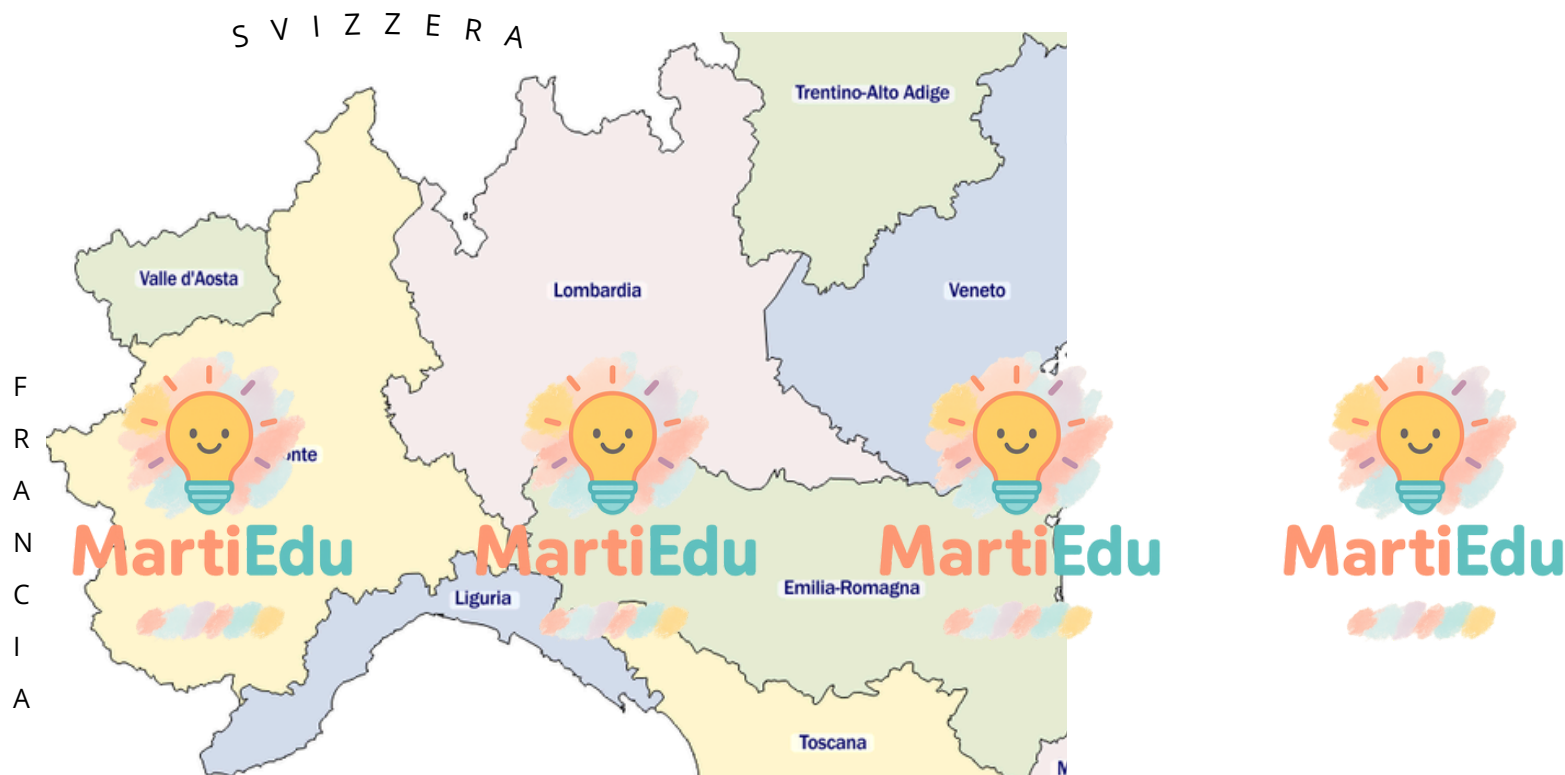
5) Per ciascuna regione, scrivi le informazioni riguardanti la ... e ... principali.

Lombardia	
Piemonte	

Verifica di GEOGRAFIA: Lombardia/Piemonte

NOME..... COGNOME..... DATA.....

1) Osserva la cartina e scrivi i confini di ogni regione.



LOMBARDIA	PIEMONTE
NORD: SUD: EST: OVEST:	NORD: SUD: EST: OVEST:

2) Scrivi sui puntini la regione o le regioni in cui si trova l'elemento indicato: (se vuoi, aiutati con la cartina fisica dell'Italia sul libro).

1. Lago di Como:

2. Monviso:

3. ... maggiore:

4. Monte Rosa:

5. Pianura Padana:

6. Il territorio della Lombardia è maggiormente:

7. Il territorio del Piemonte è maggiormente:

3) Leggi e completa.

- Il capoluogo della Lombardia:
- Il capoluogo del Piemonte:
- Significato del nome Lombardia:
a) Regione dei laghi b) Terra dei Longobardi c) Terra delle pianure
- Significato del nome Piemonte:
a) Terra dei fiumi b) Terra dei monti c) Terra ai piedi dei monti

4) Scrivi a quale regione si riferisce ogni affermazione.

E' la regione in cui nasce il Po.	
Varese, Monza, Mantova, Cremona si trovano in...	
Si trovano monti che superano i 4000 metri.	
E' la regione per la produzione di formaggi.	
Possiede tre aeroporti.	

5) Leggi attentamente ogni affermazione e scrivi "V" se è vera o "F" se è falsa.

1. In Piemonte, nelle zone pianeggianti si coltiva soprattutto riso.
2. Il trappasso è usato principalmente per produrre vino.
3. Gli allevamenti di bovini e suini sono molto sviluppati in Lombardia.
4. In Lombardia sono presenti poche aziende di tecnologia avanzata.
5. In entrambe le regioni, nelle zone collinari sono presenti vigneti.
6. In Piemonte è molto sviluppato il settore automobilistico.
7. Il turismo, in Piemonte e Lombardia, si concentra solo sulle città d'arte e non sulla natura.