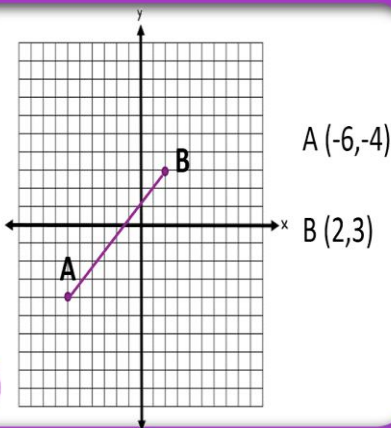



Coefficiente angolare

Domanda #1



Risposte

1	0.875
2	-1
3	-2.6
4	0
5	0.067
6	-0.429
7	0.4
8	3
9	-0.5



Istruzioni

Scegli la domanda dal menù in alto. Scrivi il coefficiente angolare di ciascuna retta nella casella delle risposte corrispondente. In forma decimale; se necessario approssima la risposta al millesimo.

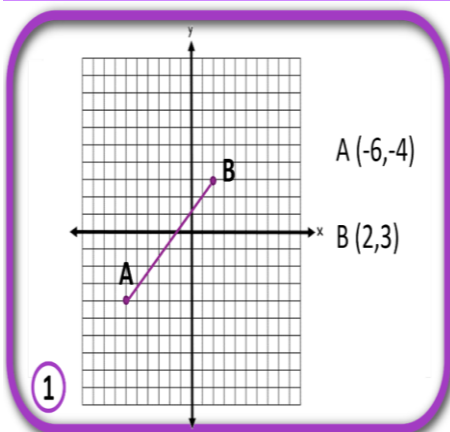
Fogli Google

Immagine misteriosa



Nessuna preparazione necessaria

Domanda # 1





Istruzioni

Scegli la domanda dal menù in alto. Scrivi il coefficiente angolare di ciascuna retta nella casella delle risposte corrispondente, in forma decimale; se necessario approssima la risposta al millesimo.

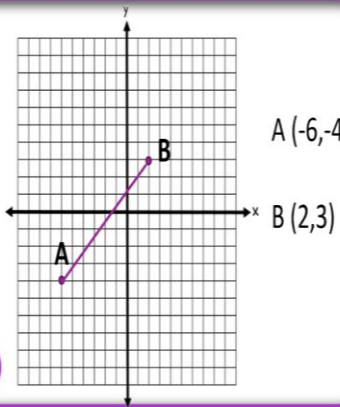
Risposte

1	0.875
2	-1
3	
4	
5	
6	
7	
8	
9	



Auto correzione

Domanda #1



Risposte

1	0.875
2	-1
3	-2.6
4	0
5	0.067
6	
7	
8	
9	



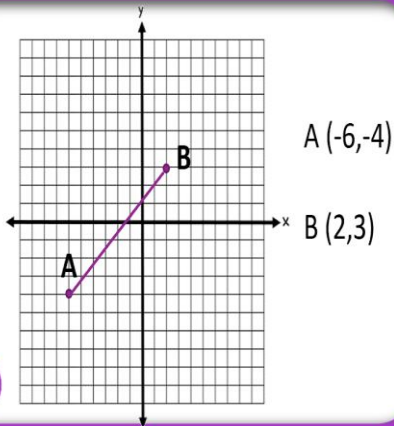
Istruzioni

Scegli la domanda dal menù in alto. Scrivi il coefficiente angolare di ciascuna retta nella casella delle risposte corrispondente. In forma decimale; se necessario approssima la risposta al millesimo.



Divertente

Domanda # 1



Risposte

1	0.875
2	-1
3	-2.6
4	0
5	0.067
6	-0.429
7	0.4
8	3
9	-0.5



Istruzioni

Scegli la domanda dal menù in alto. Scrivi il coefficiente angolare di ciascuna retta nella casella delle risposte corrispondente, in forma decimale; se necessario approssima la risposta al millesimo.

