









# IL RETICOLO D' AUTUNNO

	A	B	C	D	E	F
1						
2						
3						
4						
5						
6						

Osserva il reticolo e indica quale elemento si trova nella casella indicata

**B - 2 :** \_\_\_\_\_

**F - 6 :** \_\_\_\_\_

**F - 1 :** \_\_\_\_\_

**D - 3 :** \_\_\_\_\_

**A - 5 :** \_\_\_\_\_

**E - 4 :** \_\_\_\_\_

**D - 6 :** \_\_\_\_\_

**C - 1 :** \_\_\_\_\_

# IL RETICOLO D' AUTUNNO

	A	B	C	D	E	F
1						
2						
3						
4						
5						
6						

**Divertiti a inserire i diversi elementi nel reticolo seguendo le indicazioni della maestra**

