

24 piccole

attività

logico matematiche per

la classe 1

*da usare per
calendario avvento o
esercizi a tema o
isole matematiche o
riempitempo o
come vuoi tu*

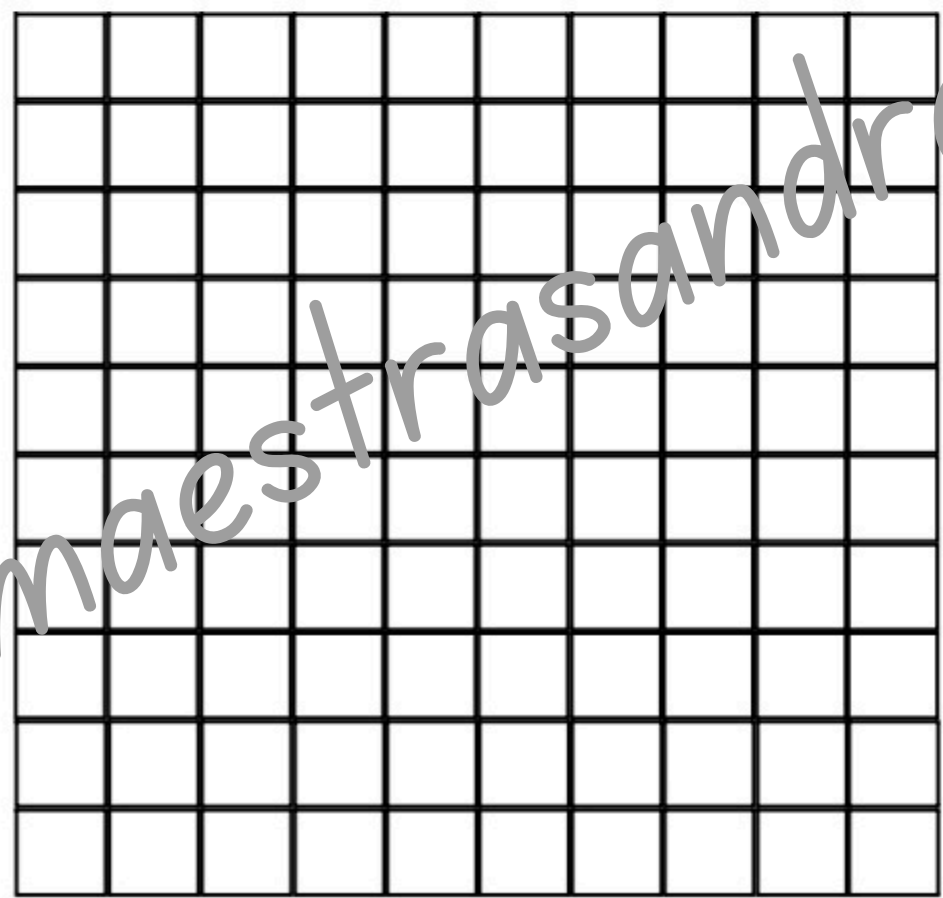


CHE COSA APPARIRA'?

COLORA SEGUENDO LA LEGENDA

0	1	0	1	1	1	1	0	1	0
1	0	1	1	1	1	1	1	0	1
1	1	0	1	1	1	1	0	1	1
1	1	1	0	2	2	0	1	1	1
1	1	2	2	2	2	2	2	1	1
1	1	1	2	2	2	2	1	1	1
1	1	1	2	3	3	2	1	1	1
1	1	1	2	3	3	2	1	1	1
1	1	1	2	4	4	2	1	1	1
1	1	1	1	2	2	1	1	1	1

- 0 = MARRONE SCURO
- 1 = CELESTE
- 2 = MARRONE CHIARO
- 3 = ROSSO
- 4 = BIANCO




CHE COSA APPARIRA'?

COLORA SEGUENDO LA LEGENDA

0	0	0	0	1	1	0	0	0	0
0	0	0	0	1	1	0	0	0	0
0	0	0	1	1	1	1	0	0	0
0	0	0	0	2	2	0	0	0	0
0	0	0	0	2	2	0	0	0	3
0	0	3	2	4	4	2	3	3	1
0	3	0	2	2	4	2	0	0	0
3	0	2	2	2	4	2	2	1	1
0	0	2	2	2	2	2	2	0	0
0	0	2	2	2	2	2	2	0	0

- 0 = AZZURRO
- 1 = NERO
- 2 = BIANCO
- 3 = MARRONE
- 4 = VERDE



maestrasandradidattica.blogspot.com

SUDOKU NATALIZIO



SUDOKU NATALIZIO



SCOPRI E LEGGI

A	B	C	D	E	F	G	H	I	J	K	L	M
N	O	P	Q	R	S	T	U	V	W	X	Y	Z

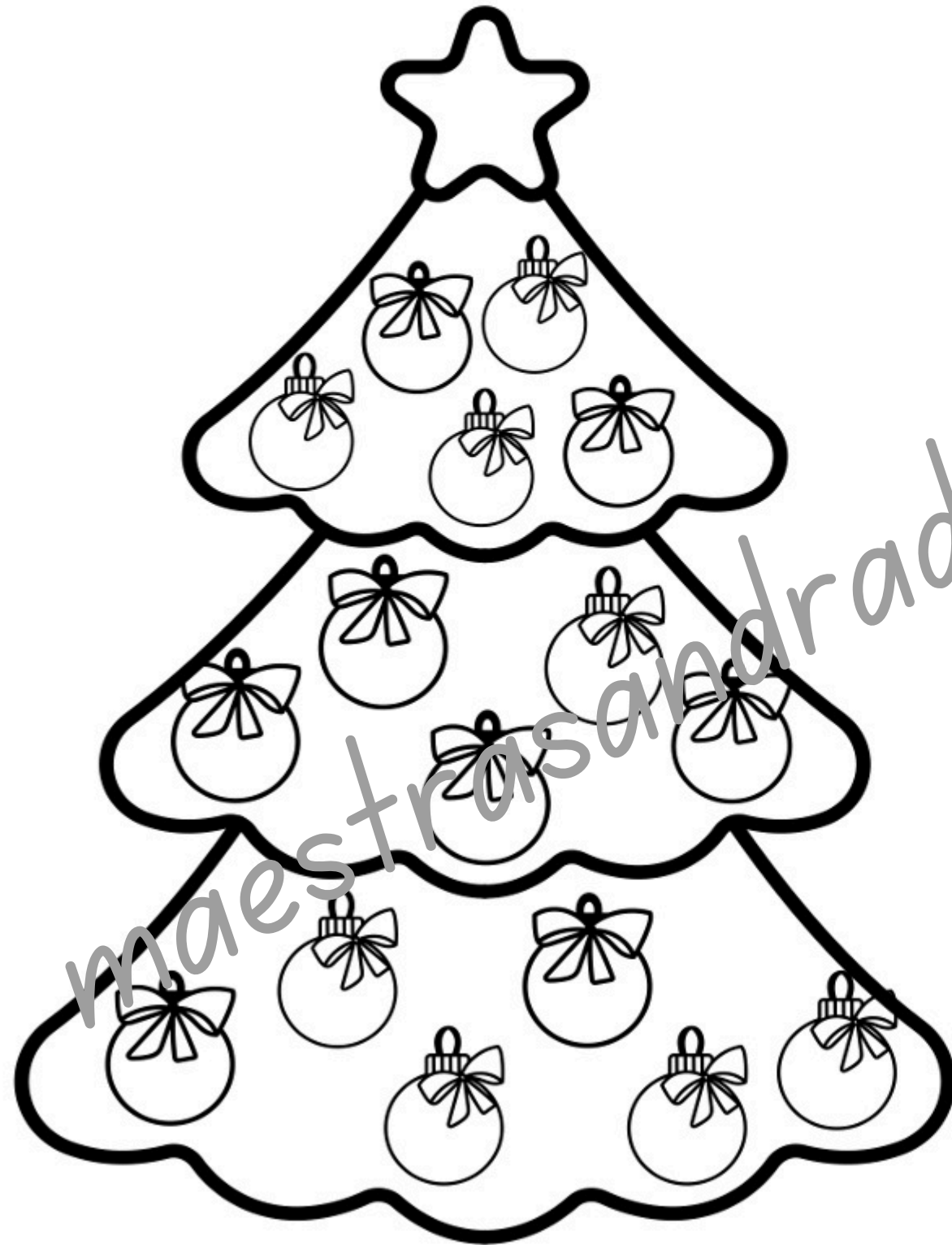
CONTA GLI ELEMENTI DI NATALE



	<input type="text"/>		<input type="text"/>		<input type="text"/>		<input type="text"/>
	<input type="text"/>		<input type="text"/>		<input type="text"/>		<input type="text"/>

Due giocatori hanno 2 dadi (con il numero 6 coperto da un'etichetta che vale 0) e una matita colorata. A turno lanciano i dadi, sommano i numeri usciti e colorano una pallina sull'albero: chi ha il punteggio più alto colora con il proprio colore; in caso di pareggio, la pallina si colora di giallo. Vince chi colora più palline.

BATTAGLIA DI PALLINE




Servono 2 dadi (con il numero 6 coperto e sostituito da 0) e una matita colorata per ciascun giocatore

Si gioca a turni.

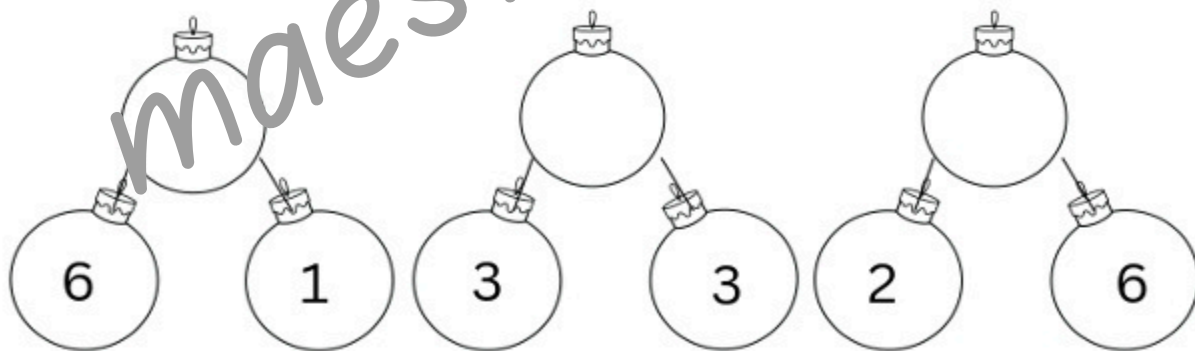
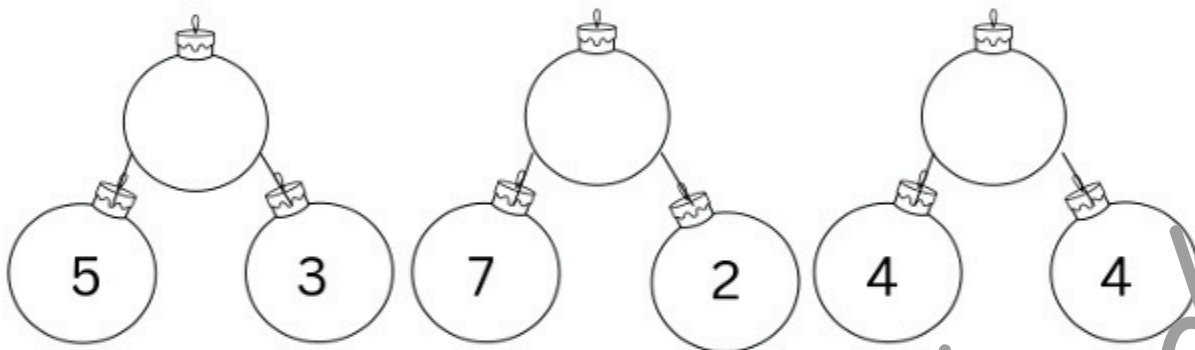
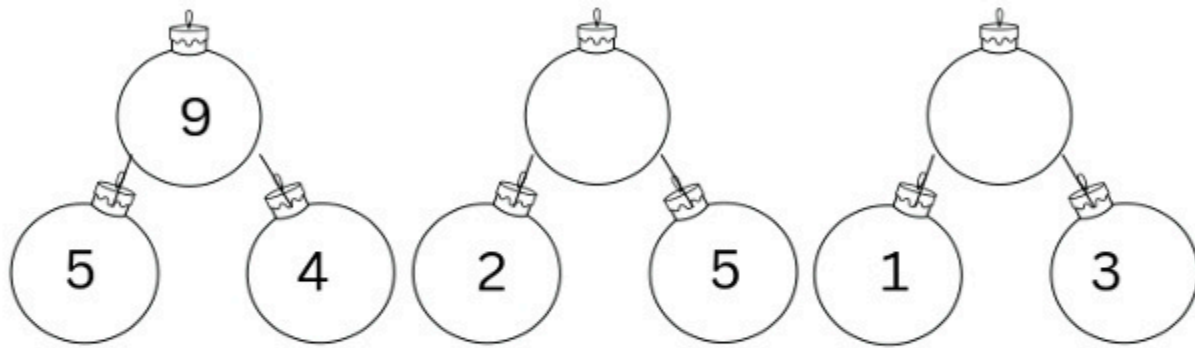
Ogni giocatore lancia i dadi, somma i punteggi. e fa un pallino in un numero di caselle pari a quanti sono i punti ottenuti..Chi arriva prima da Babbo Natale ha vinto

CHI ARRIVERA' PRIMA DA BABBO NATALE?




Palline scomposte

Scrivi quale numero si è scomposto in due parti



AIUTA GNOMO

AD ARRIVARE A 10

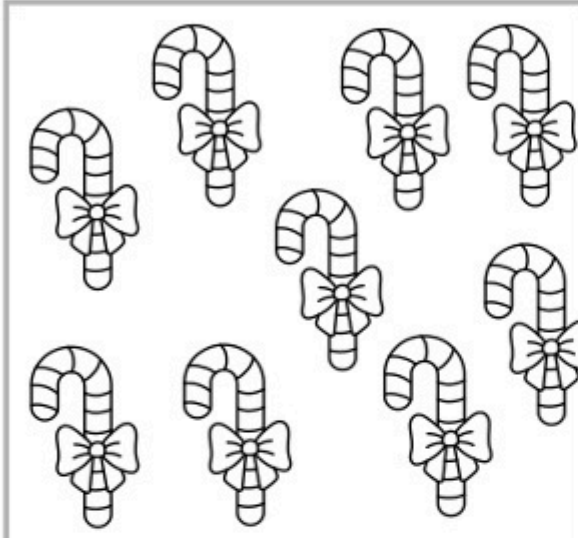


- $4 + \bigcirc = 10$
- $\bigcirc + \bigcirc = 10$
- $\bigcirc + \bigcirc = 10$
- $\bigcirc + \bigcirc = 10$
- $\bigcirc + \bigcirc = 10$
- $\bigcirc + \bigcirc = 10$
- $\bigcirc + \bigcirc = 10$
- $\bigcirc + \bigcirc = 10$
- $\bigcirc + \bigcirc = 10$
- $\bigcirc + \bigcirc = 10$


maestrasandradidattica.blogspot.com

CONTA E COLORA IL NUMERO GIUSTO

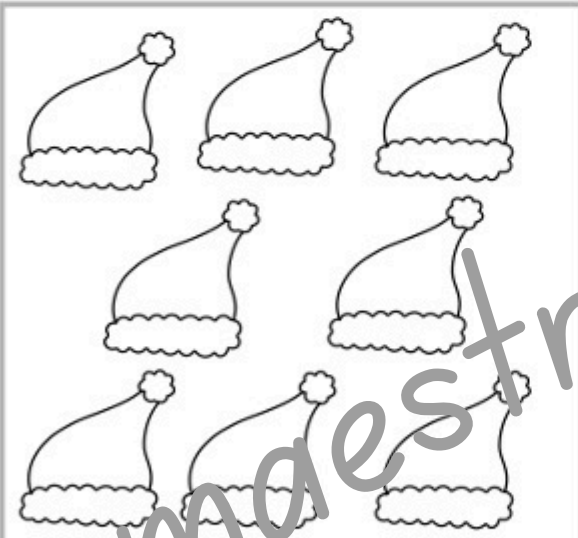
Count the elements in each box and mark the correct number.




8 1 7 9



2 3 5 7



2 1 8 4



7 5 4 3

QUANTI DOLCI IN TUTTO?



+




=



+



=



+



=



+



=



+



=



+



=

